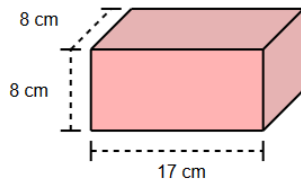
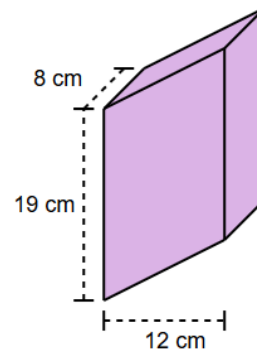


Fach: Fm	Thema: Übungen Volumenberechnung	Los!	
Datum:	Name:	Klasse:	Blatt-Nr.:

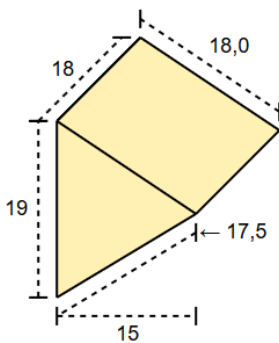
1. Aufgabe: Berechne das Volumen des abgebildeten Körpers.



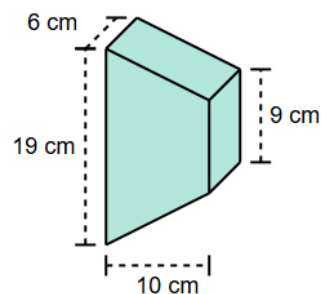
2. Aufgabe: Berechne das Volumen in dm^3



3. Aufgabe: Berechne das Volumen. (Maßangaben in mm)



4. Aufgabe: Berechne das Volumen.



5. Aufgabe: Berechne das Volumen in Liter. (Maße in dm)

