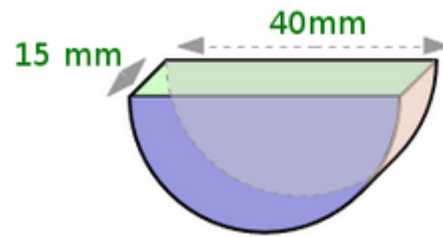
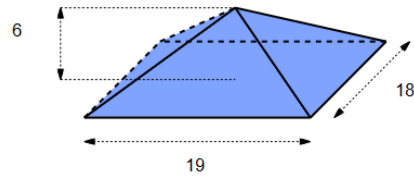


Fach: Fm	Thema: Übungen Volumenberechnung	Los!	
Datum:	Name:	Klasse:	Blatt-Nr.:

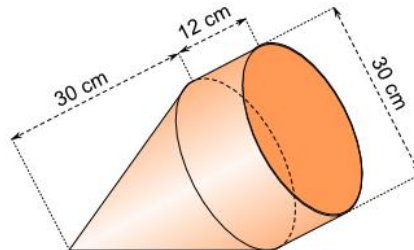
6. Aufgabe: Berechne das Volumen.



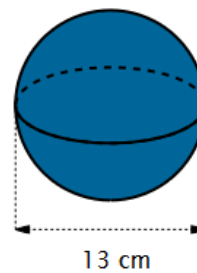
7. Aufgabe: Berechne das Volumen. Maßanaaben in m.



8. Aufgabe: Berechne das Volumen.



9. Aufgabe: Berechne das Volumen.



10. Aufgabe: Berechne das Volumen.

