

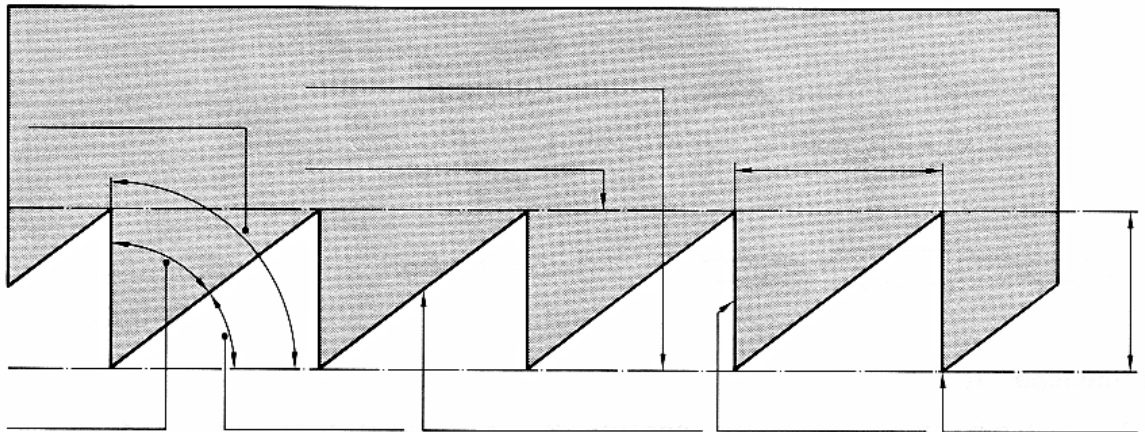
Arbeitsaufgabe:

Beantworten Sie mit Hilfe des Informationsblattes „Sägewerkzeuge - Informationsblatt“ die nachfolgenden Fragen.

5 **1. Sägeblatt**

Bezeichnen Sie die gekennzeichneten Teile eines Sägeblattes mit den entsprechenden Fachausdrücken!

10




2. Zahnformen

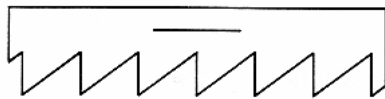
Beschreiben Sie anhand der vorgegebenen Zahnformen deren Wirkungsweise und den entsprechenden Schnittwinkel, und kennzeichnen Sie außerdem mit einem Pfeil die Schnittrichtung!

Zahnform

Wirkungsweise

Schnittwinkel







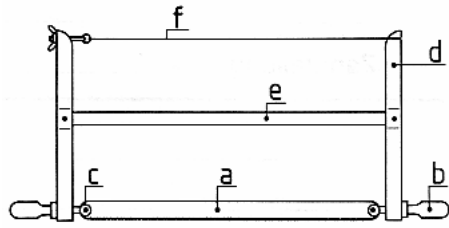


15

20

3. Sägearten / Gespannte Sägen

Aus welchen Einzelteilen besteht die dargestellte Gestellsäge?



25

a. _____

b. _____

30

c. _____

d. _____

35

e. _____

f. _____

4. Mit welchen 3 **Gestellsägen** arbeiten Sie in der Werkstatt?

40

1. _____

2. _____

3. _____

45

5. Mit welcher **Gestellsäge** ist „**Querholz**“ zu sägen?

50

6. Mit welcher **Gestellsäge** ist „**Längsholz**“ zu sägen?

55
